

Љиљана Вдовић, Лидија Виденовић

# СВЕТ ОКО НАС 1

Радни листови за први разред основне школе

# САДРЖАЈ

## ЈА И ДРУГИ

Да се представим .....	5
Основна осећања .....	6
Основне животне потребе .....	7
Сличности и разлике .....	8

## ПОРОДИЧНИ ДОМ, ШКОЛА

Породица .....	11
Рођаци .....	12
Дом .....	13
Послови у кући .....	15
Школа .....	16
Права и обавезе. Правила понашања .....	18
Породични и школски празници .....	21
Насеља .....	22

## ЗДРАВЉЕ И БЕЗБЕДНОСТ

Здрава исхрана .....	24
Лична хигијена и хигијена простора .....	25
Шта је још важно за очување здравља .....	27
Саобраћај и правила у саобраћају .....	28
Опасности у саобраћају .....	30
Опасности и безбедно понашање .....	31

## ОРИЈЕНТАЦИЈА У ПРОСТОРУ И ВРЕМЕНУ

Кретање и сналажење у простору .....	34
Сналажење у времену .....	36

## ЧОВЕК СТВАРА

Занимања људи и средства за рад .....	38
Материјали .....	40
Својства материјала .....	41

## РАЗНОВРСНОСТ ПРИРОДЕ

Жива и нежива природа .....	42
Сунце .....	43
Ваздух .....	44
Вода и њена својства .....	45
Земљиште .....	47
Животиње и биљке шума .....	48
Биљке и животиње ливада .....	50
Биљке и животиње бара, језера и река .....	51
Биљке које човек гаји .....	52
Животиње које човек гаји .....	54
Делови тела биљака .....	56
Делови тела животиња .....	57
Делови тела човека .....	59
Човекова чула .....	60


# ДА СЕ ПРЕДСТАВИМ

Ово сам ја

Зовем се

---

Имам година ...



Желим да научим...

Кад одрастем бићу...

# НАСЕЉА

1. На сликама су приказани град и село. У ком типу насеља живиш? Обој рам одговарајуће слике.



Село



Град

2. Упиши знак ✓ у  поред онога што постоји у твом насељу.



Болница



Ватрогасна станица




Пошта




Пекара



Кафић




Биоскоп



Књижара




Ветеринарска амбуланта



Поврћњак и воћњак

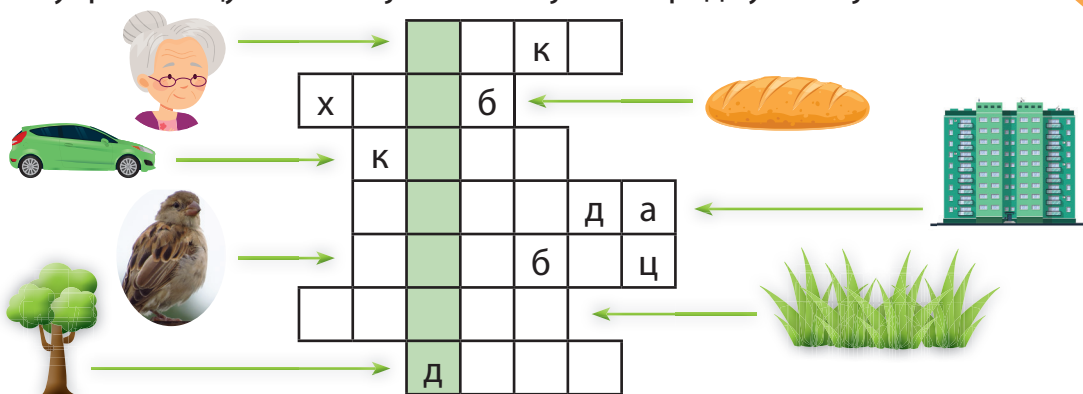


Њива



Игралиште

3. Реши укрштеницу. Решење је назив највећег града у нашој земљи.



4. Заокружи слике деце која не поштују правила понашања у насељу.



5. Прочитај текст.

Ја сам Милан. Ово је бака Ружа која станује у стану поред мог. Она није моја бака, али јој помажем често. Зовем је или покуцам на њена врата да проверим да ли јој нешто треба.



а) Ако је тврдња тачна, заокружи **ДА**, а ако је нетачна, заокружи **НЕ**.

Милан и бака Ружа су рођаци.      **ДА**    **НЕ**

Милан се пристојно понаша.      **ДА**    **НЕ**

Милан је бакин сусед.      **ДА**    **НЕ**

б) Обој одговарајући облачић. Кад Милан сретне баку током дана, треба да јој каже:

Здраво, бако!

Добар дан, бако!

Ћао, бако!

4. Од наведених тврдњи, једна је нетачна. Пронађи је и подвучи.  
Свим живим бићима је за живот неопходна вода.  
Тела живих бића садрже воду.  
Вода за пиће је провидна течност без укуса и мириса.  
Човек својим понашањем не загађује воду.

5. За шта човек користи воду?
- 

6. Обој  на следећи начин:



– ако редовно радиш оно што је наведено



– ако повремено радиш оно што је наведено


Док перем зубе, затварам славину.

Док сапунам руке, затварам славину.

Туширам се, уместо купања у кади.

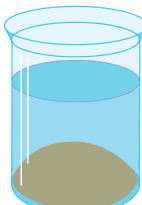
Воду из флаше коју не попијем, користим за заливање биљака.

7. Погледај слику. Заокружи слово испред тачне тврдње.

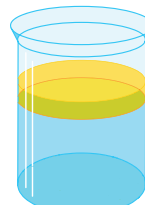


- а) На слици је приказан разноврсни биљни и животињски свет вода.  
б) На слици је приказано како загађена вода угрожава живи свет у њој.  
в) На слици је приказано како човек брине о води.

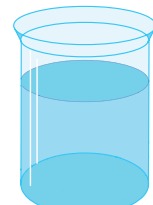
8. Који материјал је вода растворила?  
Заокружи његов назив.



песак



уље



со

9. Које материјале ће вода растворити? Упиши знак ✓ испод одговарајућих назива.

бибер у зрну

детерџент за судове

шећер

грашак



сирће

лимунов сок

<input type="checkbox"/>	<input type="checkbox"/>	<input type="checkbox"/>	<input type="checkbox"/>	<input type="checkbox"/>	<input type="checkbox"/>
--------------------------	--------------------------	--------------------------	--------------------------	--------------------------	--------------------------

# ЗЕМЉИШТЕ

1. а) Линијом повежи поље са одговарајућом сликом.



брдо

равница

планина

б) Обој поље са називом изгледа земљишта које постоји у крају у ком живиш.

2. Зашто је земљиште важно живим бићима? Прецртај нетачан одговор.

Биљке из земљишта узимају воду и хранљиве састојке потребне за живот.

Земљиште је довољно пространо да на њега стане сав отпад који човек направи.

Неке животиње живе у земљишту, а неке га користе као склониште.

Неке животиње се хране биљкама које расту из земљишта.

Биљке које човек користи у исхрани, сади у земљишту.

3. • Кретањем глисте кроз земљиште, она га „проветрава“. Шта то значи? Заокружи слово испред тачног одговора.

- а) То значи да у земљишту има више ваздуха, па је оно плодније.
- б) То значи да у земљишту има више воде, па је оно плодније.
- в) То значи да има више места за кишне глисте.

• Како називамо земљиште које у себи садржи више ваздуха? Заокружи тачан одговор.

неплодно

растресито

тврдо

• По чему се разликују слојеви земљишта приказани на слици? Заокружи слово испред тачног одговора.

- а) Разликују се по влажности, боји и растреситости.
- б) Разликују се по висини, боји и влажности.

• Обој  на слици земљиште које је најмање влажно.



# БИЉКЕ КОЈЕ ЧОВЕК ГАЈИ

1. а) Линијом повежи назив биљке са одговарајућом сликом.



сунцокрет

кукуруз

пшеница

б) Заокружи тачан одговор. Где расту биљке приказане на сликама?


У повртњаку.

На њиви.

в) Од које две биљке се може добити брашно које се користи за прављење хлеба? Заокружи те слике.

2. а) Упиши у  одговарајући број.

1. ротквица
2. карфиол
3. купус
4. броколи
5. шаргарепа
6. кромпир





б) Заокружи тачан одговор. Где расту биљке приказане на слици?

У парку.

У воћњаку.

У повртњаку.

3. Напиши називе поврћа приказаног на сликама. Обој слике одговарајућим бојама.



\_\_\_\_\_

\_\_\_\_\_

\_\_\_\_\_

\_\_\_\_\_



4. Напиши шта се може правити од:

парадајза

паприке

5. Обој поље са тачним одговором. Поврће је важно редовно јести:

а) зато што га има свуда;

б) зато што је разних боја;

в) зато што је здраво.

6. Нацртај воће од којег се може правити џем.

7. Заокружи тачне одговоре. Које послове људи обављају у воћњаку?

окопавају

жању

прскају биљке заштитним средствима

заливају биљке водом

орезују гране

косе

8. Заокружи слике биљака од којих се може правити чај.



нана



камилица



зумбул



шипурак