

Љиљана Вдовић

СВЕТ ОКО НАС 2

Радни листови за други разред основне школе

САДРЖАЈ

ДРУГИ И ЈА

Групе људи и ја	6
Права и обавезе. Правила понашања. Жеље и потребе	8
Празници	11

КУЛТУРА ЖИВЉЕЊА

Моја домовина	12
Насеља	13
Занимања људи	15
Здравље	17
Саобраћај	20
Безбедно понашање у саобраћају	22
Врсте саобраћаја. Правила понашања у саобраћајним средствима	23
Временске непогоде и безбедно понашање	25

ЧОВЕК СТВАРА

Материјали	26
Својства материјала	27
Послови људи у селу и граду	29

КРЕТАЊЕ И ОРИЈЕНТАЦИЈА У ПРОСТОРУ И ВРЕМЕНУ

Кретање тела	30
Шта утиче на кретање тела	31
Сналажење у насељу	32
Мерење времена	34
Дан и делови дана	35
Седмица	38
Година, месеци, календар, датум	39
Годишња доба 1	42

РАЗНОВРСНОСТ ПРИРОДЕ

Рељеф	43
Воде око нас	44
Заједничке особине живих бића	46
Делови тела човека	47
Делови тела биљака и животиња	48
Разноврсност биљака	50
Значај биљака за човека	51
Разноврсност животиња	54
Значај животиња за човека	57
Сунце као услов живота	58
Вода као услов живота	59
Ваздух као услов живота	60
Земљиште као услов живота	61
Још понешто	62
Годишња доба 2	63
И, на крају	64

ЗАНИМАЊА ЉУДИ

1. Напиши које послове обављају:

- а) ауто-механичар: _____;
- б) пилот: _____;
- в) посластичар: _____.

2. Пронађи четири назива занимања људи. Напиши их на линији поред одговарајућег објашњења.

л	к	ш	н	у	п	е	ћ	в
ф	о	т	о	г	р	а	ф	с
у	ј	а	в	ђ	х	у	џ	о
а	р	х	и	т	е	к	т	а
е	у	ф	н	ђ	ш	о	б	љ
к	е	р	а	м	и	ч	а	р
њ	с	у	р	л	а	н	о	с

1. Прави нацрт изгледа неког објекта и надгледа како се гради.

3. Пише текстове за новине.

2. Поставља плочице на подовима и зидовима.

4. Фотографише и израђује фотографије.

3. Линијом повежи назив занимања са сликом одговарајућих средстава за рад. Један назив је вишак.

кројач

столар

ватрогасац


обућар

сликар



4. Реши укрштеницу.

- Други назив за стоматолога.
- Човек који доставља писма.
- Жена која подучава децу у основној школи.
- Жена која лечи животиње.
- Човек који кречи зидове.
- Жена која лечи људе.
- Жена која пише књиге, романе и сл.
- Човек који прави и продаје лекове.



Решење укрштенице је _____

5. Реши лавиринт и сазнаћеш како се назива занимање особа које се баве осмишљавањем изгледа сцене у позоришту или на филму.



СЦЕНАРИСТА

СЦЕНОГРАФ

6. Заокружи слово испред тачног одговора.
- Ако некоме пукне цев у кухињи, позваће:
 - а) водоинсталатера; б) електричара; в) механичара.
 - Ако некоме пукне гума на аутомобилу, оправити је је:
 - а) козметичар; б) електричар; в) вулканизер.

7. Решење ребуса је други назив за реч занимање.



Решење:

8. Којим занимањем би желео/желела да се бавиш кад порастеш? Објасни свој избор.

1. Како се ко креће? Повежи линијама.

шаран

лептир

човек

пчела

ХОДА

ЛЕТИ

СКАЧЕ

ПЛИВА

скакавац


зец

жаба

медвед

сом

2. Погледај слике, па заокружи одговарајућу реч тако да тврдња буде тачна.



Лишће, снег и деца **лете** / **падају** / **скачу**.

3. На које начине деца покрећу предмете приказане на сликама? Напиши на линији: гура или вуче. Једна слика је вишак.



4. Пронађи називе предмета који клизе или се котрљају када их човек покрене. Упиши их на одговарајућа места.

ш	т	у	к	а	л
п	о	х	л	и	у
р	ч	о	и	к	с
с	а	н	к	е	т
т	к	о	е	н	е
к	о	с	р	о	р
с	к	и	ј	е	и

Клизе: _____ и _____.

Котрљају се: _____ и _____.

ШТА УТИЧЕ НА КРЕТАЊЕ ТЕЛА

1. Дечак трчи по стази у парку, по снегу и по плићаку у води.

- Кроз коју средину ће се најтеже кретати? Заокружи одговарајућу слику.




- Заокружи слово испред тачног одговора. Ови примери показују да на кретање тела утиче:

а) облик тела које се креће;

б) величина тела које се креће;

в) средина кроз коју се тело креће.

2. • На којој подлози ће исти аутић прећи најдужи пут ако се одгурне истом јачином? Заокружи одговарајућу слику.



- Заокружи слово испред тачног одговора. Ови примери показују да на кретање утиче:

а) подлога по којој се тело креће;

б) облик тела које се креће;

в) величина тела које се креће.

3. Ана је вршила оглед. Лењиром је одгурнула модел ваљка и кутијицу истовремено, истом јачином. Шта можемо закључити на основу овог огледа?

- Заокружи одговарајућу реч тако да тврдња буде тачна.

Дужи пут ће прећи тело које **клизи** / **котрља се**.


- Заокружи слово испред тачног одговора.

На кретање приказаних тела утиче:

а) подлога;

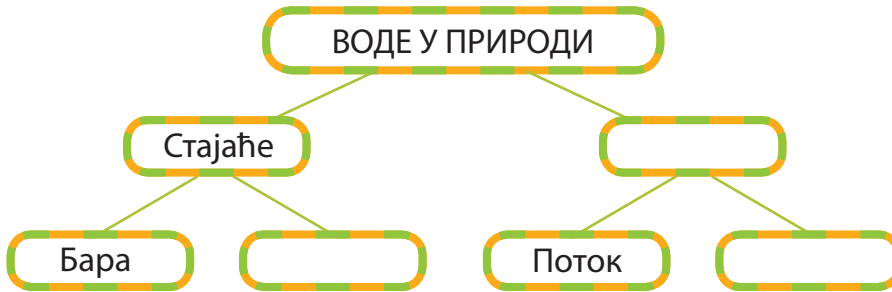
б) облик тела;

в) боја тела.



ВОДЕ ОКО НАС

1. Како смо разврстали воде? Допуни поља одговарајућим називима.



2. а) Која стајаћа вода је приказана на слици? _____



б) Лينيјом повежи називе биљака и животиња са одговарајућим сликама.

3. Пронађи називе делова текућих вода и упиши их поред одговарајућег објашњења.

1. Пут којим вода тече од извора према ушћу.

2. Место на којем вода извире на површину.

3. Земљиште поред текуће воде. Лева и десна

4. Удубљење у земљи којим тече вода.

к	о	р	и	т	о
у	б	е	з	о	б
ш	а	к	в	к	а
ћ	л	а	о	љ	р
е	а	с	р	н	а

4. Допиши одговарајућу реч.

Место где се текућа вода улива у другу текућу воду, језеро или море називамо _____.

5. Које текуће воде су приказане на сликама? Повежи слику и одговарајући назив.



поток



равничарска река



планинска река

6. Наведи једну разлику између равничарских и планинских река.

7. Напиши називе вода у твом месту и околини, ако постоје.


8. Решења ребуса су називи две велике реке које протичу кроз Србију.



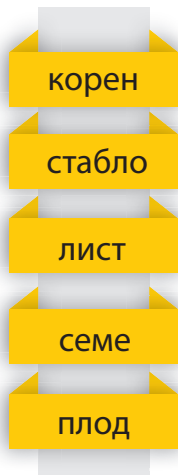


ДЕЛОВИ ТЕЛА БИЉАКА И ЖИВОТИЊА

1. У одговарајућа поља упиши називе делова тела биљке приказане на слици.



2. Линијом повежи део тела биљке са одговарајућом улогом.



Ствара храну за биљку.
Преко њега биљка дише.

Из њега ниче нова биљка.

Штити семе које се у њему налази.

Причвршћује биљку за земљиште.
Из ње упија воду и хранљиве састојке.

Проводи воду и хранљиве састојке.

3. По чему се биљке разликују од осталих живих бића? Упиши знак \surd у поред тачних одговора.

Зависе од неживе средине.


Дишу.

Саме себи стварају храну.

Производе кисеоник помоћу Сунчеве светлости.

Расту и развијају се.

4. Упиши у поља одговарајуће називе означених делова тела.



5. Обој поља са тачним одговорима.

Рибама је тело прекривено:

длаком

крљуштима

кожом

Рибама шкрге служе за:

кретање тела

храњење

дисање

6. Која је улога крила код птица? _____

7. Линијом повежи пут скакавца до траве. Пази, он скаче по пољима са животињама којима ноге служе за кретање.



8. Упореди делове тела човека и коња. Шта им је слично, а шта различито? Напиши на одговарајућа места.

Човек	Сличност	Коњ
стопала	два ока	копита

ЈОШ ПОНЕШТО

1. Прочитај текстове, па одговори на питања.

Погоди ко сам!

Становник сам чистих вода. Имам дуго и витко тело. Могу да стојим усправно неколико минута. Међу прстима ми се налазе пловне кожице. Дobar сам пливач. За мене је везана и изрека: плива као



- Ова животиња зове се _____.
- Подвуци две реченице у тексту из којих сазнајеш како се ова животиња прилагодила средини у којој живи.




Погоди ко сам!

Живим на дрвећу. Имам оштре канџе, снажан и шиљаст кљун. Њиме кљуцам по кори дрвета тражећи скривене инсекте. Повремено поједем и понеки шумски плод. Замисли, у једној секунди могу да куцнем о дрво чак 20 пута!

- Ова животиња зове се _____.
- Из текста сазнајеш да је ова животиња по начину исхране _____.

2. Као што већ знаш, локвањ је биљка која живи на површини воде. Шта мислиш, да ли она има корен? Објасни свој одговор.

3. Састави и ти питалицу о некој биљци или животињи, а затим је нацртај.



ГОДИШЊА ДОБА 2

1. Поред описа годишњег доба упиши одговарајући број.

Пада снег и дувају хладни ветрови. Обданица је кратка. Лишћарско дрвеће је оголело. Неке животиње спавају, а неке тешко долазе до хране. Људи чисте снег.

1
пролеће

2
лето

4
зима

3
јесен

Дани су хладнији. Честа је киша. Обданица траје краће од ноћи. Лишће жути и опада. Неким дивљим животињама расте гушћа длака. Неке птице се селе на југ. Људи спремају зимницу. На њивама се бере кукуруз.

Све је више сунчаних и топлијих дана. На биљкама се појављују листови. Птице селице се враћају и праве гнезда. Дивље животиње добијају младунце. Људи саде биљке, окопавају земљиште и плевје га.

Обданица је дужа од ноћи. Топло је и сунчано. Повремено падне краткотрајна киша. Сазрело је воће и поврће. Људи жању жито на њивама.

2. Које животиње преспавају зиму? Заокружи њихове називе.

медвед

веверица

вук

јеж

јазавац

3. Које птице се у јесен селе у топлије крајеве? Обој поља са њиховим називима.

рода

врабац

голуб

ласта

сврака

4. На које начине човек може да помогне птицама станарицама током зиме?

5. Сунце, посебно у току летњих месеци, може бити штетно. Како се ти штитиш од Сунчевих зрака током лета? Упиши знак \checkmark у одговарајућа поља табеле.

Тврдња	Често	Ретко	Никад
Носим качкет или шешир на глави.			
Носим наочаре са затамљеним стаклима.			
Наносим на кожу крему са заштитним фактором.			
Носим танку одећу дугих рукава.			
Када сам напољу средином дана, играм се у хладу дрвета.			