




Петсонове и Финдусове
МОЗГАЛИЦЕ



Бројјеви и облици



Креативни центар

**Петсонове и Финдусове мозгалице
БРОЈЕВИ И ОБЛИЦИ**

Наслов оригинала
Siffror och former

© Illustrations by Sven Nordqvist
© Text by Anja Eriksson

Original publisher: Bokförlaget Opal AB, Stockholm, 2022

За издање на српском језику, ћирилицом
© Креативни центар 2022

Илустровао
Свен Нурдквист

Написала
Ања Ериксон

Са енглеског превео
Дејан Беговић

Уредник
Дејан Беговић

Лектор
Ивана Игњатовић

Припрема за штампу
Саша Стефановић

Издавач
Креативни центар, Београд, Градничанска 8
тел.: 011 / 3088 446 • e-mail: info@kreativnicentar.rs • www.kreativnicentar.rs

За издавача
Мр Аиљана Маринковић, директорка

Штампа
Графостил, Крагујевац

Тираж
2000

Година штампе
2022

ISBN 978-86-529-1036-6

CIP – Каталогизација у публикацији
Народна библиотека Србије, Београд

087.5

ЕРИКСОН, Ања

Петсонове и Финдусове мозгалице. Бројеви и облици /
[написала Ериксон Ања ; илустровао Свен Нурдквист ; са
енглеског превео Дејан Беговић]. – Београд : Креативни центар,
2022 (Крагујевац : Графостил). – [32] стр. : илустр. ; 30 cm

Превод дела: Siffror och former.
– Податак о ауторима преузет из колофона.
– Тираж 2.000.

ISBN 978-86-529-1036-6

1. Нурдквист, Свен, 1946 [илустратор]


COBISS.SR-ID 64037385



Петсонове и Финдусове
МОЗГАЛИЦЕ



Бројјеви и облици





Креативни центар



Финдусова сенка


Финдус толико скаче наоколо да га ни сопствена сенка не може стићи. Помози мачку да пронађе своју сенку тако што ћеш га линијом повезати с њом.






Слагалица

Петсон и Финдус се увек лепо проводе у кухињи,
али са овом сликом нешто није у реду.
Где треба ставити дате делове слагалице?
Упиши одговарајући број у свако празно поље.



Којим путем до куће?

Зелено бићенце се изгубило и не зна како да се врати кући. Који од ова три пута води до његове куће?



Решења

Рачунање

Пред тобом је неколико рачунских задатака. Да би се они решили, најпре треба пребројати слике Финдуса, кокошака и бићенаца, а онда урадити задатке у складу с датим рачунским операцијама. Резултате упиши иза знака =, па их провери у решењима на крају књиге.

$$\text{3 Финдуса} + \text{2 кокошака} = 5$$

$$\text{4 кокошака} + \text{3 Финдуса} = 7$$

$$\text{2 Финдуса} + \text{1 кокошка} = 3$$

$$\text{4 кокошака} + \text{2 Финдуса} = 6$$

$$\text{4 кокошака} - \text{1 Финдус} = 3$$

Шта је најдуже?

Финдус је извукао неке предмете из шупе и питао бићенца да ли знају који је од њих најдужи. Решни и ти овај задатак тако што ћеш предметима доделити бројеве од 1 до 4, почев од најдужег. Упиши бројеве у квадратике.




Преброј бићенца

Финдусу се понекад чини да су бићенца свуда унаоко. Хајде да их сада пребројимо и да видимо колико којих има. Упиши одговарајуће бројеве у квадратике.




Два по два!

Сва бића и предмети на слици су у пару. Ко је сам? Пронађи и заокружи.



Боје

О, не! Петсон, Финдус и бићенце толико су се занели прављењем палачици да уопште нису приметили да им недостају боје! Помози им и обој их.



Бићенца и тајна шифра

Бићенца су припремила нове, мало теже задатке! Пратећи њихове шифре, реши ове задатке и упиши резултате иза знака =.

$$\text{1 кокошка} = 1 \quad \text{1 Финдус} = 4 \quad \text{1 бићенце} = 7$$

$$\text{1 кокошка} = 2 \quad \text{1 Финдус} = 5 \quad \text{1 бићенце} = 8$$

$$\text{1 кокошка} = 3 \quad \text{1 Финдус} = 6 \quad \text{1 бићенце} = 9$$

$$\text{1 кокошка} + \text{1 Финдус} = 6$$

$$\text{1 кокошка} + \text{1 бићенце} = 9$$

$$\text{1 кокошка} + \text{1 Финдус} = 7$$

$$\text{1 кокошка} + \text{1 бићенце} = 8$$

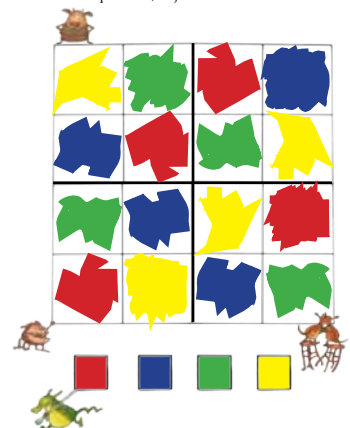
$$\text{1 кокошка} - \text{1 Финдус} = 8$$

$$\text{1 кокошка} - \text{1 бићенце} = 1$$

$$\text{1 кокошка} - \text{1 Финдус} = 4$$

Бићенца и судоку у боји

Бићенца су направила још један судоку с бојама. Хајде да га решимо, није то тако тешко!



Дружи се с Петсоном и Финдусом
и решавај занимљиве и паметне задатке
са словима и речима. Можда ће ти
и неко бићенце помоћи у томе!

Потражи и друге књиге о Петсону и Финдусу...

